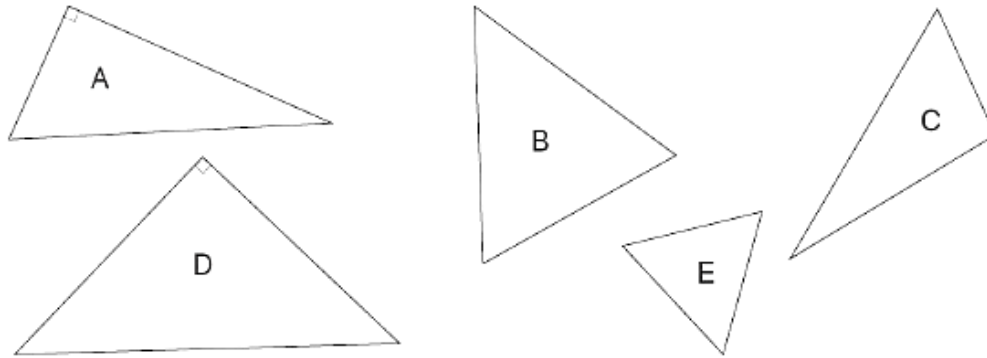
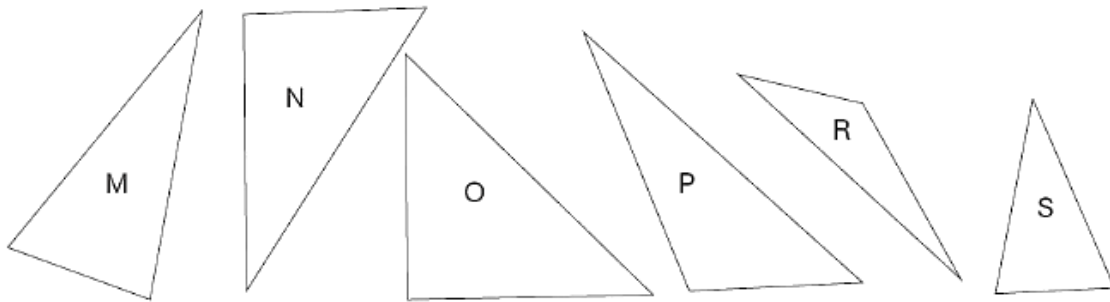


6. Kateri od narisanih trikotnikov so enakokraki in kateri raznostranični?



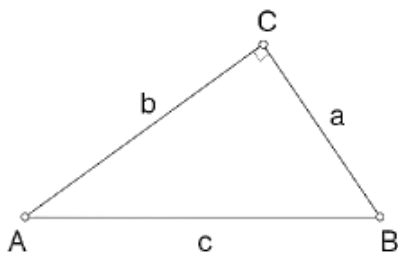
7. Kateri od narisanih trikotnikov so:

a) ostrokotni b) pravokotni c) topokotni?

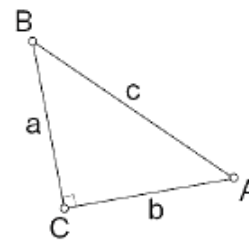


8. Poimenuj trikotnike glede na kote in dolžino stranic.

a)



b)



Glede na kote:

Glede na kote:

Glede na stranice: _____

Glede na stranice: _____

9. Obkroži črki pred pravilnima trditvama.

- a) V pravokotnem trikotniku leži najdaljša stranica nasproti pravemu kotu.
- b) Vsaka stranica v trikotniku je daljša od vsote drugih dveh.
- c) Trikotnik je enakokrak, če je osnovnica trikrat krajša od njegovega obsega.
- č) Trikotnik je enakostraničen, če ima vse kote skladne.